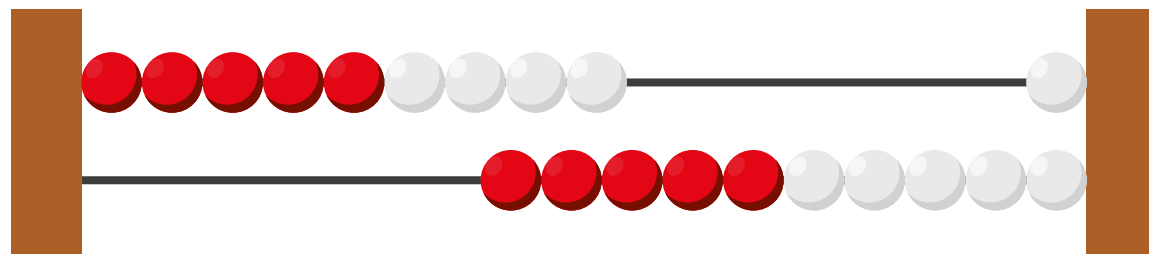



Ik kan zien hoeveel er op het rekenrek staat



Ik kan de som bedenken



Boek 3a blok 4: Jarig



Ik kan de sommen uitrekenen


5	+1	<input type="text"/>	4	-1	<input type="text"/>
4	+2	<input type="text"/>	7	-1	<input type="text"/>
7	+2	<input type="text"/>	5	-2	<input type="text"/>
9	+1	<input type="text"/>	9	-2	<input type="text"/>
6	+2	<input type="text"/>	8	-1	<input type="text"/>

Ik kan splitsen


<input type="text"/>	<input type="text"/>	<input type="text"/>	<input type="text"/>
<input type="text"/>	<input type="text"/>	<input type="text"/>	<input type="text"/>

Ik kan van minder naar meer opschrijven

8	10	9	→	<input type="text"/>	<input type="text"/>	<input type="text"/>
12	14	13	→	<input type="text"/>	<input type="text"/>	<input type="text"/>
15	16	14	→	<input type="text"/>	<input type="text"/>	<input type="text"/>
18	20	19	→	<input type="text"/>	<input type="text"/>	<input type="text"/>



Ik kan de getallenlijn invullen



8	<input type="text"/>	<input type="text"/>	11	<input type="text"/>	14	<input type="text"/>	<input type="text"/>
<input type="text"/>	17	<input type="text"/>	19	<input type="text"/>	<input type="text"/>	16	<input type="text"/>
<input type="text"/>	13	<input type="text"/>	15	<input type="text"/>	<input type="text"/>	<input type="text"/>	19
<input type="text"/>	18	19	<input type="text"/>	<input type="text"/>	<input type="text"/>	15	<input type="text"/>