







Ik kan uitrekenen hoeveel geld ik overhoud

	 2 euro	 4 euro	 5 euro	 6 euro	 8 euro	wat houd je over?
10		1	1		 euro
12		1		1	 euro
12	1	1	1		 euro

Boek 3b blok 4: Vakantie

Ik kan de kalender invullen

mei

Maandag	29	6			
Dinsdag	30				
Woensdag	1				
Donderdag	2				
Vrijdag				24	31
Zaterdag					1
Zondag		12	19		2



Ik kan geldbedragen bij elkaar optellen



Ik kan met zo weinig mogelijk biljetten en munten betalen

					
57 euro					
72 euro					
66 euro					

Ik kan de getallenlijn invullen

